

# SCIENCES



## FICHE ÉLÈVE 2 Deuxième partie

Q1

### La décantation



Après avoir regardé le film (vidéo 2), explique le principe de la décantation.

.....

.....

.....

Fais un schéma pour expliquer l'expérience :

schéma

• Est-ce un procédé difficile à mettre en place ?

.....

.....

.....

### Q2



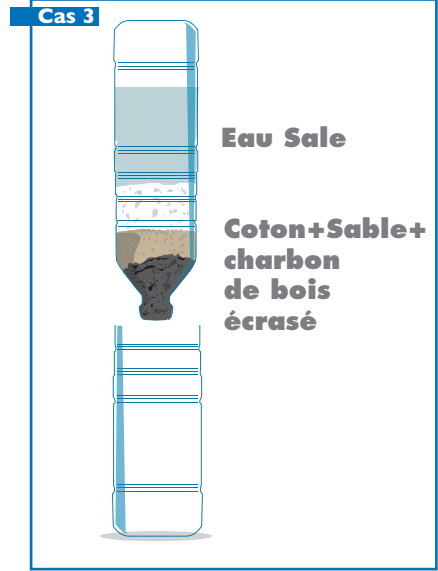
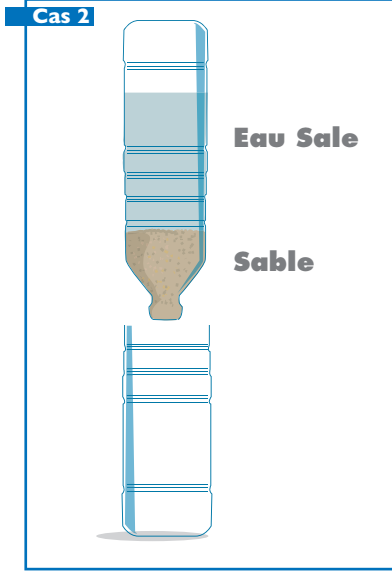
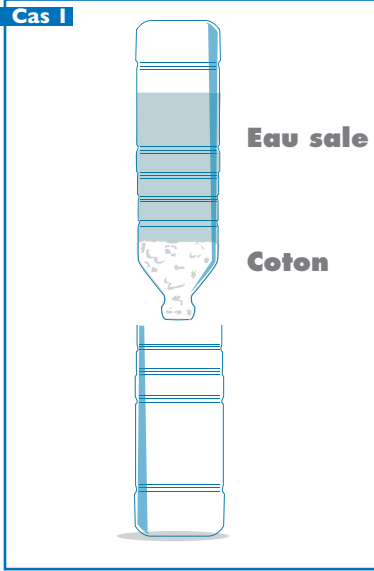
#### La filtration

Après avoir regardé le film (vidéo 3), explique le procédé de la filtration.

.....

.....

.....



Selon toi, dans lequel de ces trois cas, la filtration sera la plus efficace ? Pourquoi ?

.....

.....

.....

.....

.....

.....

### Q3



#### La chloration

Après avoir regardé l'expérience filmée (vidéo 4), explique ce qu'est la chloration :

.....

.....

.....

.....

.....